

Strassensignale

Informationen für Lehrpersonen



| | |
|-----------------------|--|
| Arbeitsauftrag | Ein Kreuzworträtsel – verknüpft mit Bildern – bringt die SuS mit den wichtigsten Verkehrsschildern in Kontakt. |
| Ziel | > Die SuS kennen die wichtigsten Strassensignale und ihre Bedeutung. |
| Material | > Arbeitsblatt |
| Sozialform | EA |
| Zeit | 20' |

Zusätzliche Informationen:

- > Die Broschüre „Strassensignale“ kann beim TCS gratis bestellt werden:
<https://www.tcs.ch/de/testberichte-ratgeber/broschueren-publikationen/verkehrserziehung-sicherheit/strassensignale-schweiz.php>
- > Oder hier als Download:
<https://www.tcs.ch/mam/Verkehrssicherheit/PDF/Booklets/strassensignale.pdf>
- > Selbst ein Verkehrsmemory gestalten



Aufgabe: Lies die Informationen zu den Signalen gut durch und zeichne ein passendes Zeichen in das Feld.







Unterschiedliche Signale

| | |
|--|--|
| <p>Gefahrensignale</p> <ul style="list-style-type: none"> > Gefahrensignale haben in der Regel die Form eines gleichseitigen Dreiecks, einen roten Rand und ein schwarzes Symbol aufweissem Grund. Bei Matrixsignalen können der Grund schwarz und das Symbol weiss sein. > Sie werden nur angeordnet, wo ortsunkundige Fahrer:innen eine Gefahr nicht oder zu spät erkennen kann. | |
| <p>Vorschriftssignale (Gebot- oder Verbotssignale)</p> <ul style="list-style-type: none"> > Vorschriftssignale zeigen ein Gebot oder Verbot an; sie sind in der Regel rund. Verbotssignale haben im Allgemeinen einen roten Rand und ein schwarzes Symbol aufweissem Grund; bei Matrixsignalen können der Grund schwarz und das Symbol weiss sein. Gebotssignale haben eine schmale weisse Umrandung und ein weisses Symbol auf blauem Grund. Bei kurzfristiger Signalisation können Vorschriftssignale auf weisssem dreieckigem Faltsignal dargestellt werden. | |
| <p>Vortrittssignale</p> <ul style="list-style-type: none"> > Vortrittssignale zeigen an, dass Fahrer:innen anderen Fahrzeugen den Vortritt gewähren müssen oder dass ihnen der Vortritt gegenüber anderen Fahrzeugen zusteht. > Vortrittssignale sind der äusseren Form nach Gefahren-, Vorschrifts- oder Hinweissignale. | |
| <p>Hinweissignale</p> <ul style="list-style-type: none"> > Signale mit Informationshinweisen sind rechteckig oder quadratisch. Sie haben in der Regel auf blauem Grund ein schwarzes Symbol in einem weissen Innenfeld. | |



Aufgabe: Löse das Rätsel. Wie heisst das Lösungswort?






Kreuzworträtsel Strassensignale

| | |
|--|---|
| 1. Wie heisst dieses Verbot? |  |
| 2. Was folgt nach diesem Verkehrsschild? |  |
| 3. Welche Farbe hat das Verkehrszeichen, das du bestimmt schon oft gesehen hast? |  |
| 4. Dieses Zeichen bedeutet: |  |
| 5. Nach diesem Zeichen kommt ein _____. |  |
| 6. Auf welcher Strasse befindest du dich, wenn du dieses Signal siehst? |  |
| 7. Wie heisst der Weg, der nach diesem Signal kommt? |  |
| 8. Wenn du die Hälfte von zwei nimmst, eine Bahn hinzufügst und bei der Klasse die ersten beiden Buchstaben durch „str“ ersetzt, bekommst du ein weiteres Verkehrszeichen. Versuche, es selbst zu zeichnen. |  |
| 9. _____ haben in der Regel die Form eines gleichseitigen Dreiecks, einen roten Rand und ein schwarzes Symbol auf weissem Grund. Male das Verkehrszeichen richtig aus. |  |

Strassensignale

Arbeitsunterlagen



| | |
|--|--|
| <p>10. Signale mit Informationshinweisen sind rechteckig oder _____ . Sie haben in der Regel auf blauem Grund ein schwarzes Symbol in einem weissen Innenfeld.</p> |  |
| <p>11. Der Name dieses Verkehrszeichens ist?</p> |  |
| <p>12. Sie zeigen ein Gebot oder Verbot an. Wie heisst diese Art von Verkehrssignalen? _____ signale.</p> |  |
| <p>13. Es folgt eine _____ .</p> |  |
| <p>14. Wovor warnt dieses Zeichen?</p> |  |

14-letter crossword puzzle grid with 14 numbered starting points:

- 1: Row 1, Column 2
- 2: Row 2, Column 1
- 3: Row 3, Column 5
- 4: Row 4, Column 4
- 5: Row 5, Column 3
- 6: Row 6, Column 4
- 7: Row 7, Column 4
- 8: Row 8, Column 1
- 9: Row 9, Column 1
- 10: Row 10, Column 1
- 11: Row 11, Column 3
- 12: Row 12, Column 1
- 13: Row 13, Column 1
- 14: Row 14, Column 4

Shaded cells are located at (4,6), (12,6), and (14,6) in a 14x14 grid.

Lösungswort: _____

Strassensignale

Lösungen



Anregung, wie die Aufgabe gelöst werden könnte

| | |
|--|---|
| <p>Gefahrensignale zum Beispiel „Rechtskurve“</p> |  |
| <p>Vorschriftsignale (Gebot- oder Verbotssignale) zum Beispiel „Allgemeines Fahrverbot in beiden Richtungen“</p> |  |
| <p>Vortrittssignale zum Beispiel „Kein Vortritt“</p> |  |
| <p>Hinweissignale zum Beispiel „Autobahnen“ (nur für Motorfahrzeuge, die eine Geschwindigkeit von wenigstens 80 km/h erreichen können und dürfen)</p> |  |

Strassensignale

Lösungen



| | | | | | | | | | | | | | | | | | | | | | |
|----|---|----|---|---|---|---|---|---|---|---|---|---|---|---|---|---|---|---|---|---|---|
| | | 1 | F | A | H | R | V | E | R | B | O | T | | | | | | | | | |
| 2 | F | U | S | S | G | A | E | N | G | E | R | S | T | R | E | I | F | E | N | | |
| | | 3 | | | | | R | O | T | | | | | | | | | | | | |
| | | 4 | | | | | K | E | I | N | | V | O | R | T | R | I | T | T | | |
| | | 5 | K | R | E | I | S | E | L | | | | | | | | | | | | |
| | | 6 | | | | | H | A | U | P | T | S | T | R | A | S | S | E | | | |
| | | 7 | | | | | R | A | D | W | E | G | | | | | | | | | |
| 8 | E | I | N | B | A | H | N | S | T | R | A | S | S | E | | | | | | | |
| 9 | G | E | F | A | H | R | E | N | S | I | G | N | A | L | E | | | | | | |
| 10 | Q | U | A | D | R | A | T | I | S | C | H | | | | | | | | | | |
| | | 11 | | | | | L | I | C | H | T | S | I | G | N | A | L | | | | |
| 12 | V | O | R | S | C | H | R | I | F | T | S | S | I | G | N | A | L | | | | |
| 13 | B | A | U | S | T | E | L | L | E | | | | | | | | | | | | |
| | | 14 | | | | | A | N | D | E | R | E | | G | E | F | A | H | R | E | N |