

# Panneaux routiers

Informations destinées au personnel enseignant



<b>Contenu du cours</b>	Des mots croisés – associés à des illustrations – confrontent les élèves aux principaux panneaux de signalisation.
<b>Objectif</b>	> Les élèves connaissent les principaux panneaux routiers et leur signification.
<b>Matériel</b>	> Fiche de travail
<b>Mode de travail</b>	Travail individuel
<b>Durée</b>	20'

## Informations complémentaires :

- > La brochure gratuite «Signaux routiers» peut être commandée auprès du TCS:  
<https://www.tcs.ch/fr/tests-conseils/brochures-publications/education-routiere-securite/signaux-routiers.php>
- > Vous pouvez aussi la télécharger en suivant ce lien :  
<https://www.tcs.ch/mam/Verkehrssicherheit/PDF/Booklets/signaux-routiers.pdf>
- > Créez votre propre memory sur le code de la route.



**Exercice** : Lis les informations sur les différents panneaux et dessine celui qui convient dans la case.

## Les panneaux

<p><b>Signaux de danger</b></p> <ul style="list-style-type: none"><li>&gt; En règle générale, les signaux de danger ont la forme d'un triangle équilatéral à bordure rouge et portent un symbole noir sur fond blanc. Lorsqu'il s'agit de signaux à matrice, le fond peut être noir et le symbole blanc.</li><li>&gt; Ils sont placés là où les conducteurs ne connaissant pas les lieux pourraient ne pas apercevoir un danger ou le remarquer trop tard.</li></ul>	
<p><b>Signaux de prescription (obligation ou interdiction)</b></p> <ul style="list-style-type: none"><li>&gt; Les signaux de prescription annoncent une obligation ou une interdiction. Ils ont généralement la forme d'un disque. Les signaux d'interdiction ont habituellement une bordure rouge et portent un symbole noir sur fond blanc ; lorsqu'il s'agit de signaux à matrice, le fond peut être noir et le symbole, blanc. Les signaux d'obligation ont une étroite bordure blanche et un symbole blanc sur fond bleu. S'il s'agit d'une signalisation de courte durée, les signaux de prescription peuvent être représentés sur un signal pliable blanc, de forme triangulaire.</li></ul>	
<p><b>Signaux de priorité</b></p> <ul style="list-style-type: none"><li>&gt; Les signaux de priorité annoncent aux conducteurs et aux conductrices qu'ils doivent accorder la priorité aux autres véhicules ou qu'ils bénéficient de la priorité par rapport à eux.</li><li>&gt; Les signaux de priorité ont la forme des signaux de danger, des signaux de prescription ou des signaux d'indication.</li></ul>	

# Panneaux routiers

Documents de travail



## Signaux d'indication

- > Les signaux d'indication qui impliquent des règles de comportement sont rectangulaires ou carrés. En règle générale, ils portent un symbole noir dans un champ blanc, le tout sur fond bleu.



**Exercice** : Résous l'énigme et trouve le mot mystère.









## Mots croisés sur les panneaux routiers

1. Que signifie cette interdiction ?	
2. Qu'annonce ce panneau ?	
3. De quelle couleur est ce panneau, que tu as certainement vu des centaines de fois ?	
4. Quelle est la signification de ce panneau ?	
5. Qu'y a-t-il après ce signal ? _____	
6. Sur quel type de route te trouves-tu si tu vois ce panneau ?	

# Panneaux routiers

Documents de travail



7. Qu'est-ce qui commence après ce panneau ?	
8. Devinette : nous en avons cinq, et peut-être même un sixième, pour percevoir ce qui nous entoure. Ajoutes-y un adjectif qui signifie seul, sans aucun autre, et tu trouveras le nom d'un panneau. Essaie de le dessiner dans la case.	
9. En règle générale, les _____ ont la forme d'un triangle équilatéral à bordure rouge et portent un symbole noir sur fond blanc. Colore ce panneau correctement.	
10. Les signaux d'indication qui impliquent des règles de comportement sont rectangulaires ou _____. En règle générale, ils portent un symbole noir dans un champ blanc, le tout sur fond bleu.	
11. Quel est le nom de ce panneau ?	
12. Ils annoncent une obligation ou une interdiction. Comment appelle-t-on ce type de panneaux ? Des signaux de _____.	
13. Après ce panneau, tu dois t'attendre à trouver des _____.	
14. Qu'annonce ce panneau ?	

# Panneaux routiers

Documents de travail



13

8

5

6

3

2

1

10

12

11

14

7

4

15





9

# Panneaux routiers

Solutions



## Suggestion de solution

<p><b>Signaux de danger</b></p> <p>Par exemple «virage à droite»</p>	
<p><b>Signaux de prescription (obligation ou interdiction)</b></p> <p>Par exemple «interdiction générale de circuler dans les deux sens»</p>	
<p><b>Signaux de priorité</b></p> <p>Par exemple «cédez le passage»</p>	
<p><b>Signaux d'indication</b></p> <p>Par exemple «Autoroute» (uniquement pour les véhicules à moteur pouvant atteindre une vitesse minimale de 80 km/h et y étant autorisés)</p>	

# Panneaux routiers

Solutions



1				A	C	C	E	S		I	N	T	E	R	D	I	T								
2	P	A	S	S	A	G	E		P	I	E	T	O	N	S										
3				R	O	U	G	E																	
6	R	O	U	T	E		P	R	I	N	C	I	P	A	L	E									
5				G	I	R	A	T	O	I	R	E													
8			S	E	N	S		U	N	I	Q	U	E												
13			T	R	A	V	A	U	X																
10							C	A	R	R	E	S													
12	P	R	E	S	C	R	I	P	T	I	O	N													
11		S	I	G	N	A	U	X		L	U	M	I	N	E	U	X								
14							A	U	T	R	E	S		D	A	N	G	E	R	S					
7									P	I	S	T	E		C	Y	C	L	A	B	L	E			
4						C	E	D	E	Z		L	E		P	A	S	S	A	G	E				
15	Z	O	N	E		D	E		R	E	N	C	O	N	T	R	E								
9									S	I	G	N	A	U	X		D	E		D	A	N	G	E	R